

a. Ordena estas cosas de menor a mayor peso, escribiendo debajo el número desde el 1 para el menor hasta el 5 para el mayor



b. Ordena estos objetos de menor a mayor peso, escribiendo debajo el número desde el 1 para el menor hasta el 5 para el mayor

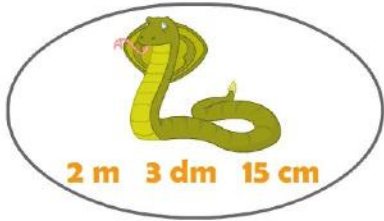


c. Ordena estos alimentos de menor a mayor peso, escribiendo debajo el número desde el 1 para el menor hasta el 5 para el mayor



a.

¿Cuántos cm mide esta serpiente?



235

1.

245

2.

23

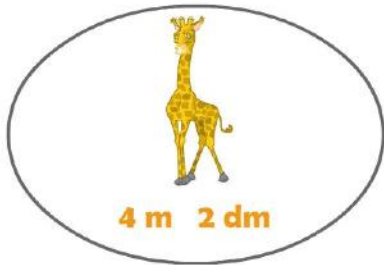
3.

325

4.

b.

¿Cuántos cm mide esta jirafa?



42

1.

20

2.

420

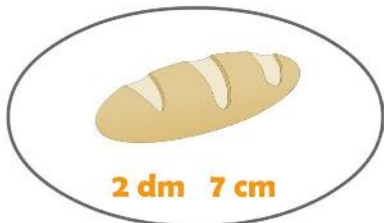
3.

4,2

4.

c.

¿Cuántos cm mide este pan?



72

1.

27

2.

25


3.

70

4.

a.

¿Cuántos cm mide este tren?



853

1.

835

2.

8.850

3.

8.350

4.

b.

¿Cuántos cm mide este avión?



7.248

1.

482

2.

4.872

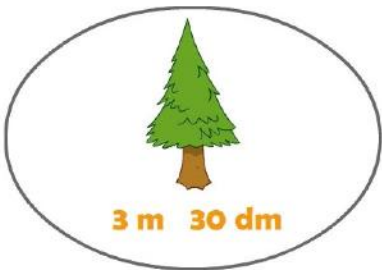
3.

5.520

4.

c.

¿Cuántos cm mide este árbol?



600

1.

330

2.

3.000

3.

3.300

4.

a.

¿Cuántos m mide esta montaña?



50

1.

500

2.

0,5


3.

5.000

4.

b.

¿Cuántos km mide este río?



6

1.

60

2.

600

3.

6.000

4.

c.

¿Cuántos m mide este mar?



15.000

1.

150

2.

1.500.000

3.

15

4.

a. Ordena estos alimentos de mayor a menor peso, escribiendo debajo el número desde el 1 para el mayor hasta el 5 para el menor



b. Ordena estas pesas de mayor a menor peso, escribiendo debajo el número desde el 1 para el mayor hasta el 5 para el menor



c. Ordena estos animales y objetos de mayor a menor peso, escribiendo debajo el número desde el 1 para el mayor hasta el 5 para el menor



a. Ordena estos alimentos de mayor a menor peso, escribiendo debajo el número desde el 1 para el mayor hasta el 5 para el menor



b. Ordena estos recipientes de mayor a menor peso, escribiendo debajo el número desde el 1 para el mayor hasta el 5 para el menor



c. Ordena estos recipientes de mayor a menor peso, escribiendo debajo el número desde el 1 para el mayor hasta el 5 para el menor



1 lt



5 lt



3 lt



1/2 lt



25 lt

a. Ordena estos recipientes de mayor a menor peso, escribiendo debajo el número desde el 1 para el mayor hasta el 5 para el menor



b. Ordena estos recipientes de mayor a menor peso, escribiendo debajo el número desde el 1 para el mayor hasta el 5 para el menor



3 lt



100 lt



1 lt



25lt



1/2 lt

c. Ordena estos recipientes de menor a mayor peso, escribiendo debajo el número desde el 1 para el menor hasta el 5 para el mayor

